

NÍVEL FUNDAMENTAL COMPLETO

MANHÃ


CARGO 01:

AUXILIAR MUNICIPAL/APOIO OPERACIONAL/
OPERACIONAL/MENSAGERIA E PROTOCOLO

CARGO 02:

AUXILIAR MUNICIPAL/APOIO OPERACIONAL/
OPERACIONAL/SERVIÇOS GERAIS (SERVENTE)

CETAP



INSTRUÇÕES ESPECIAIS

- 01** Você está recebendo o seu Caderno de Questões, contendo 50 (cinquenta) questões objetivas de múltipla escolha, numeradas de 01 a 50, em ordem sequencial. Confira a sequência numérica de seu Caderno de Questões antes de iniciar a resolução, assim como o número de páginas, comunicando, imediatamente, ao Fiscal de Sala, em caso de repetição ou ausência de questão ou página.
- 02** Você deve conferir, na capa do Caderno de Questões e no rodapé das páginas internas, o nível e o cargo a que este Caderno de Questões se refere. Caso você tenha recebido um Caderno de Questões que não corresponda ao mesmo nível e cargo descritos no seu Cartão Resposta, comunique imediatamente ao Fiscal de Sala e exija o Caderno de Questões correto.
- 03** As respostas das questões objetivas de múltipla escolha do Caderno de Questões deverão ser transcritas para o Cartão Resposta com caneta esferográfica de tinta azul ou preta fabricada em material transparente.
- 04** Para cada questão da Prova Objetiva de Múltipla Escolha existirão 04 (quatro) alternativas de resposta (A, B, C e D), das quais apenas uma será correta, de acordo com o comando da questão. A marcação de mais de uma no Cartão Resposta anula, automaticamente, a resposta da questão.
- 05** O tempo máximo disponível para realização da prova é de 3h30 (três horas e trinta minutos), já incluído o tempo destinado à identificação e ao preenchimento do Cartão Resposta.
- 06** Somente depois de decorridos 120 minutos do início da prova, o candidato poderá entregar o seu Caderno de Questões e o seu Cartão Resposta, e retirar-se da sala de prova.
- 07** Os 3 (três) últimos candidatos só poderão sair da sala de prova juntos.
- 08** Será permitido ao candidato levar consigo o Caderno de Questões e o Gabarito desde que nos últimos 30 (trinta) minutos antes do término da prova.

ATENÇÃO

Escreva no espaço apropriado do **Cartão Resposta**, com a sua caligrafia usual, a seguinte “frase mestra” de Benjamin Franklin:

“Deitar cedo e cedo erguer dá saúde e faz crescer”

A transcrição da “frase mestra” é obrigatória e servirá para identificar o Cartão Resposta do candidato, bem como possibilitar o Exame Pericial Grafotécnico, quando for o caso. A falta da transcrição poderá ocasionar a eliminação do candidato no presente concurso público.

**PREFEITURA MUNICIPAL
DE ANANINDEUA/PA**

CONCURSO PÚBLICO Nº 001/2020



Leia o texto e responda o que se pede nos comandos das questões.

No ringue da vida, a gente apanha, mas também bate.

Tenho, desde criança, uma mania de escrever num caderninho tudo que quero - tudo que espero, principalmente, que aconteça. Ganhei uma vez uma espécie de diário, que vinha acompanhado de um cadeado. Aquele era o meu lugar favorito no mundo. Ali, eu deixava todas as minhas memórias, as minhas confissões, as minhas paixões, as minhas repulsas, ali eu depositava todas as minhas esperanças no futuro. E repito isso até hoje. Não mais no mesmo caderninho, por falta de folhas.

Agora mesmo, eu já tinha decorado diversas páginas do novo caderno-amigo com os detalhes, as datas, as programações exatas e totalmente contabilizadas, com margem de erro, para o que fazer depois de subir ao pódio. Mas a vida nos força, mesmo a contragosto, a percorrer caminhos inimagináveis. Foi como esquecer aquelas páginas na chuva e vê-las manchar a cada gota que caía, estando com mãos e pés atados, sem poder socorrer aquele punhado de sonhos que estava prestes a se perder. E preciso dizer que estou descontando cada centavo da minha frustração em lágrimas. Já compreendi que elas não serão capazes de me arrumar as soluções de que preciso, e entendo que nenhuma gota vai se transformar na ponte que poderia me ajudar a chegar mais rápido aonde quero. Ainda assim, preciso secar a fonte da tristeza.

Esta não é a segunda, e sei que também não será a penúltima vez em que nem tudo saiu como está escrito em meu caderno. Que treinei, me mantive focado, comprometido, mas quase fui nocauteado. Parece, para ser sincero, que a cada nova rasteira que a vida dá na gente, fica mais difícil se recompor. Manter-se de pé mais uma vez. Reunir forças, tiradas sabe-se lá de onde para colocar a cabeça no lugar, superar o primeiro impacto e voltar à luta.

Estou naqueles segundos que antecedem a vitória, quando, depois de apanhar muito, o lutador está caído no tatame, respirando com dificuldade e repleto de machucados por todas as partes. É exatamente nessa hora que a gente se lembra de como chegou até ali, do tanto que batalhou, de quanto já caminhou, e se dá conta de que está longe demais para voltar atrás. Quando não há mais para onde afundar, o fundo do poço se torna o trampolim. Dali, a gente só pega impulso para chegar ao topo e nocautear as adversidades.

FONTE: ROCHA, Matheus. *Pressa de ser feliz*, p. 61,62.

Questão 01

Pode-se inferir do título "No ringue da vida, a gente apanha, mas também bate." que o ser humano em relação à vida:

- A) recebe uma ação e deprime.
- B) agride e, por isso, apanha.
- C) sofre uma ação, porém reage.
- D) vive sua rotina sem atribulações.

Questão 02

A alternativa em que todas as palavras são acentuadas pela mesma regra é:

- A) diário - espécie - inimagináveis.
- B) páginas - vê - pés.
- C) lágrimas - também - será.
- D) difícil - vitória - até.

Questão 03

Em: "(...) e vê-las manchar a cada gota (...)" no segundo parágrafo, o "las" se refere a (à)

- A) mãos.
- B) caminhos.
- C) gota.
- D) páginas.

Questão 04

Sobre a palavra "livrinho", não se pode afirmar que:

- A) é um substantivo.
- B) houve um processo sintético de diminuição.
- C) apresenta-se no singular.
- D) forma plural com acréscimo de "-us".

Questão 05

Assinale a alternativa em que há frase que contém adjetivo:

- A) "Foi como esquecer aquelas páginas (...)"
- B) "Esta não é a segunda, (...)"
- C) "(...) estando com mãos e pés atados, (...)"
- D) "Dali, a gente só pega impulso (...)"

Excerto para as questões 6, 7, 8 e 9.

"No ringue da vida, a gente apanha, mas também bate."

Questão 06

Quanto à pontuação do período, é correto afirmar que:

- A) a primeira vírgula é opcional.
- B) a segunda vírgula antecede uma oração adversativa.
- C) as duas vírgulas apresentam a mesma regra de uso.
- D) a primeira vírgula separa o sujeito do predicado.

Questão 07

O conectivo "mas" não pode ser substituído no contexto por:

- A) portanto.
- B) porém.
- C) todavia.
- D) contudo.

Questão 08

Qual é a alternativa que apresenta o núcleo do sujeito da primeira oração?

- A) ringue.
- B) vida.
- C) gente.
- D) bate.

Questão 09

Quanto ao predicado das orações, é correto afirmar que:

- A) ambos são nominais.
- B) ambos são verbais.
- C) o primeiro é nominal e o segundo verbal.
- D) ambos são verbo-nominais.

Questão 10

- Assinale a alternativa em que há falha de análise sobre o excerto: "(...) eu já tinha decorado diversas páginas (...)".
- A) "diversas" dá às páginas um sentido de múltiplas.
 - B) O termo "diversas", posterior ao substantivo, dá sentido de diferentes.
 - C) "diversas" funciona na frase como advérbio.
 - D) "tinha decorado" corresponde à forma verbal "decorara".

Questão 11

- A frase do texto com sentido denotativo ocorre em:
- A) "Tenho, desde criança, uma mania de escrever (...)".
 - B) "(...) a gente só pega impulso para chegar ao topo (...)".
 - C) "Ali, eu deixava todas as minhas memórias, (...)".
 - D) "(...) que nenhuma gota vai se transformar na ponte (...)".

Questão 12

- "(...) a chegar mais rápido aonde quero.", o emprego do termo "aonde" só está adequado em:
- A) Aonde estão meus caderninhos?
 - B) Vocês vão aonde, meu filho?
 - C) Aonde há amor, existe paz.
 - D) Aonde há fumaça, há fogo.

Questão 13

- Assinale a alternativa em que todas as palavras são do mesmo gênero:
- A) cadeado – espécie – força – centavo.
 - B) soluções – caderno – força – centavo.
 - C) gotas – mãos – pés – impacto.
 - D) vida – criança – esperança – folhas.

Questão 14

- A alternativa que contém uma locução adjetiva é:
- A) "(...) escrever num caderninho (...)".
 - B) "(...) e pés atados, (...)".
 - C) "(...) secar a fonte da tristeza."
 - D) "(...) para chegar ao topo (...)".

Questão 15

- Assinale a alternativa que contém predicação do verbo em: "(...) o fundo do poço se torna o trampolim."
- A) verbo de ligação.
 - B) verbo intransitivo.
 - C) verbo transitivo direto.
 - D) verbo transitivo indireto.

Questão 16

- Ao afirmar: "E repito isso até hoje.", o narrador se refere:
- A) à postura de procurar o previsível.
 - B) a nunca ter tido frustrações na vida.
 - C) ao hábito de escrever suas experiências.
 - D) a buscar no, choro, forças a prosseguir.

Questão 17

- Em: "Dali, a gente só pega impulso (...)", a concordância do verbo se dá:
- A) em silepse de número.
 - B) na terceira pessoa do singular.

- C) de forma incorreta, pois o núcleo do sujeito é plural.
- D) com a palavra impulso.

Questão 18


- Não se pode afirmar sobre o pronome oblíquo e sua colocação em: "Manter-se de pé mais uma vez." que:
- A) está em ênclise.
 - B) segue a norma culta.
 - C) tem sentido reflexivo.
 - D) deveria estar em próclise.

Questão 19

- Não apresenta sentido oposto à palavra "erro" presente no texto:
- A) exatidão.
 - B) equívoco.
 - C) justeza.
 - D) precisão.

Questão 20

- Assinale a alternativa que apresenta o mesmo dígrafo de "chuva":
- A) fai__a.
 - B) pai__ão.
 - C) en__ente.
 - D) en__uto.

 MATEMÁTICA

Questão 21

- Em quanto tempo um capital de R\$120.000,00 aplicado à taxa de juros simples de 10% a/a, produz R\$6.000,00 de juros?
- A) 1 ano.
 - B) 8 meses.
 - C) 6 meses.
 - D) 2 anos.

Questão 22

- Dados os conjuntos:
- $$A = \{X \in \mathbb{N} \mid X \text{ é par e } X < 8\}$$
- $$B = \{X \in \mathbb{N}^* \mid X \leq 3\}$$
- $$C = \{X \in \mathbb{Z} \mid X \text{ é ímpar e } 1 \leq X \leq 9\}$$
- Determine o conjunto $C - (A \cup B)$
- A) \emptyset
 - B) $\{0\}$
 - C) $\{3, 5, 7\}$
 - D) $\{5, 7, 9\}$

Uma pesquisa feita em um supermercado de Ananindeua sobre o consumo de dois produtos A e B registrou o seguinte resultado:

Produtos	Nº de consumidores
A	210
B	180
A e B	75
Nenhum dos dois produtos	65

Com base nestas informações, responda a seguir a questões 23 e 24:

Questão 23

Quantas pessoas participaram da pesquisa?

- A) 280
- B) 380
- C) 250
- D) 510

Questão 24

Quantas pessoas responderam que só consomem o produto B?

- A) 105
- B) 180
- C) 200
- D) 210

Questão 25

Dois números X e Y somam 390 e, a razão entre X e Y é 4/9. Qual o valor de Y-X?

- A) 130
- B) 120
- C) 150
- D) 145

Questão 26

Qual o volume de um paralelepípedo reto retângulo de medidas: (1,2 m), (2 m) e (9 dm)?

- A) 4,3 m³
- B) 2,16 m³
- C) 3,7 m³
- D) 21,6 m³

Questão 27

A aresta de um cubo é a raiz positiva da equação $x^2 + 2x - 15 = 0$. Qual o volume desse cubo em cm³?

- A) 27 cm³
- B) 9 cm³
- C) 125 cm³
- D) 15 cm³

Questão 28

A soma da terça parte com a metade do valor do salário de uma pessoa é R\$ 1.500,00. Qual o salário dessa pessoa?

- A) R\$ 1.820,00
- B) R\$ 1.200,00
- C) R\$ 1.520,00
- D) R\$ 1.800,00

Questão 29

Uma torneira enche um depósito de água em 3 horas. Outra torneira de igual vazão enche o mesmo depósito em 2 horas. Em quanto tempo as duas funcionando juntas encherão o depósito?

- A) 1h 12min
- B) 45 min
- C) 1h 20 min
- D) 50 min

Questão 30

Em um concurso 45 pessoas foram lotadas em uma sala. O fiscal notou que o número de homens diminuído de 7 é igual ao número de mulheres aumentando de 2. Quantos homens estão nesta sala?

- A) 18
- B) 20
- C) 25
- D) 27

Questão 31

Um engenheiro calculou concluir a obra de um parque em 32 dias, empregando 18 jardineiros. Tendo conseguido contratar apenas 12 jardineiros, em quantos dias o parque deverá ficar pronto?

- A) 48
- B) 52
- C) 50
- D) 42

Questão 32

Uma impressora trabalhando 30 minutos imprime 2000 provas. Quantas provas iguais, a mesma máquina imprimirá em 2h e 30 min?

- A) 4.500
- B) 10.000
- C) 12.200
- D) 9.800

Questão 33

Durante as enchentes que alagaram a cidade, 10 tratores durante 20 dias, limparam 200m de canais entulhados de lixo. Quantos tratores iguais ao primeiro seriam necessários para em 6 dias remover o lixo acumulado em 168 metros de outro canal?

- A) 26
- B) 27
- C) 25
- D) 28

Questão 34

Apliquei R\$ 30.000,00 à taxa de 1,2% a/m durante 6 meses a juros simples. Qual será o meu montante após esse período?

- A) R\$ 32.160,00
- B) R\$ 31.200,00
- C) R\$ 32.500,00
- D) R\$ 31.280,00

Questão 35

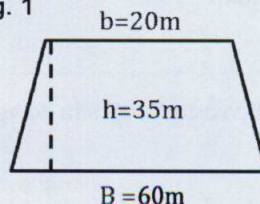
Aplicando R\$ 6.000,00 à taxa de 2% a/m a juros compostos, após 2 meses terei um montante de:

- A) R\$ 6.248,20
- B) R\$ 6.365,20
- C) R\$ 6.400,00
- D) R\$ 6.242,40

Questão 36

Uma casa de shows foi projetada com a forma de um trapézio isósceles (Fig. 1).

Fig. 1



$$(\text{Área do trapézio } A = \frac{(B+b)h}{2})$$

Com os dados fornecidos calcule a área dessa casa de shows.

- A) 1.200m²
- B) 1.400m²
- C) 1.440m²
- D) 2.100m²

Questão 37

Quantos decímetros cúbicos há em 5,6m³?

- A) 56
- B) 5.600
- C) 560
- D) 56.000

Questão 38

Em 3/5 de um terreno de 47,5 ha (1ha= 10.000 m²) foram plantados pés de açaí. Qual a área em m² dessa plantação?

- A) 2.850 m²
- B) 285.000 m²
- C) 28.500 m²
- D) 285 m²

Questão 39

Moro a 1,56 km do local onde trabalho. Todo o dia vou e volto andando. Calcule em metros a minha caminhada diária.

- A) 3.120 m
- B) 312 m
- C) 2.160 m
- D) 5.800 m

Questão 40

Um trabalhador já pintou 60% da superfície de um muro. O muro tem 180 m² de superfície. Quantos m² faltam para concluir o serviço?

- A) 108 m²
- B) 86 m²
- C) 64 m²
- D) 72 m²



ATUALIDADES

Questão 41

"Nos primeiros seis meses deste ano, quatro mulheres foram mortas por dia no Brasil por um atual ou ex-parceiro, totalizando 666 vítimas (...) de janeiro a junho, de acordo com dados de um levantamento inédito do Fórum Brasileiro de Segurança Pública. A diretora-executiva do Fórum, Samira Bueno, acredita que a violência de gênero tem 'proporções epidêmicas' mas foi 'naturalizada socialmente'." (Fonte: Jornal O Liberal. Data do acesso: 11.12.2021).

A qual crime se refere a reportagem?

- A) doloso.
- B) culposo.
- C) feminicídio.
- D) latrocínio.

Questão 42

"(...) as notas técnicas da Agência Nacional de Vigilância Sanitária (Anvisa) apontam recomendações que visam estabelecer uma nova política de fronteiras e de restrições, alinhadas às medidas de outros países que estudam adotar a medida." (Fonte: Jornal O Liberal. Data do acesso: 11.12.2021).

O que a Fiocruz, seguindo a recomendação da reportagem apresentada, defende que seja adotado no Brasil como medida que evitará o alastramento da doença?

- A) O passaporte da vacina.
- B) A vacinação para crianças menores de 5 anos.
- C) A quarta dose da vacina.
- D) A aplicação da Pfizer exclusivamente.

Questão 43

"Alvo permanente da ação de garimpeiros que buscam ouro no leito do Rio (...), o afluente do Rio Amazonas foi ocupado, nos últimos dias, por inúmeras balsas, empurradores, barcos e demais equipamentos usados para tentar identificar e extrair o valioso mineral do curso d'água.

Imagens feitas por moradores da região, e divulgadas pelas redes sociais, demonstram que, em um curto espaço de tempo, centenas de embarcações se concentraram próximas à comunidade do Rosarinho, em Autazes, formando como que um bairro flutuante." (Fonte: Revista VEJA. Data do acesso: 11.12.2021). Em operação coordenada pelo IBAMA com apoio da Polícia Federal, foi realizada a fiscalização na atuação ilegal desses garimpeiros no Rio:

- A) Trombetas.
- B) Madeira.
- C) Xingu.
- D) Araguaia.

Questão 44

"Os desafios do novo primeiro-ministro Olaf Scholz, designado a substituir Angela Merkel, chanceler durante dezesseis anos." (Fonte: Revista VEJA. Data do acesso: 11.12.2021). Qual país receberá o novo primeiro ministro?

- A) Reino Unido.
- B) Rússia.
- C) Síria.
- D) Alemanha.

Questão 45

"Um tornado atingiu a região sudeste (...) entre a noite desta sexta-feira (10) e este sábado (11) e deixou, ao menos, 50 mortos. As vítimas estão nos estados do Tennessee, Kentucky, Arkansas, Missouri. Illinois também registra muitos danos, mas não confirmou falecimentos. Os números oficiais apontam cinco vítimas, mas em entrevista ao canal "WLKY", o governador do Kentucky, Andy Beshear, apontou que as vítimas passam de 50. "Esse vai ser um dos piores danos provocados pelo maior tornado que vimos em muito tempo", adicionou." (Fonte: Revista Isto é. Data de acesso: 11.12.2021).

Onde ocorreu o tornado mencionado na reportagem citada no comando da questão?

- A) China.
- B) Turquia.
- C) Estados Unidos.
- D) Haiti.



LEGISLAÇÃO

Questão 46

O regime jurídico estatutário instituído pela Lei municipal nº 2.177, de 07 de dezembro de 2005, se aplica:

- A) aos servidores investidos em empregos públicos, assim definidos em lei municipal específica.
- B) aos empregados de empresas públicas, sociedades de economia mista e outras entidades da Administração indireta que explorem atividade econômica.
- C) aos servidores públicos das autarquias do Município de Ananindeua.
- D) aos contratados por tempo determinado, para atender à necessidade temporária por excepcional interesse público.

Questão 47

De acordo com a Lei municipal nº 2.177, de 07 de dezembro de 2005, quando houver a necessidade de redução de pessoal, em cumprimento ao limite de despesa estabelecido em lei complementar federal:

- A) o servidor público estável poderá perder o cargo, com direito à indenização correspondente a um mês de remuneração por ano de serviço.
- B) o servidor público estável poderá perder o cargo, sem direito à indenização.
- C) apenas o servidor público não estável poderá perder o cargo.
- D) tanto o servidor público estável quanto o não estável, terão o vínculo com a Administração suspenso, por período não inferior a 3 (três) meses.

Questão 48

De acordo com a Lei municipal nº 2.177, de 07 de dezembro de 2005, o retorno à atividade de servidor aposentado por invalidez quando, por junta médica oficial, declarados insubsistentes os motivos determinantes da aposentadoria é denominado:

- A) readaptação.
- B) reintegração.
- C) recondução.
- D) reversão.

Questão 49

Em conformidade com a Lei municipal nº 2.177, de 07 de dezembro de 2005, extinto o cargo ou declarada a sua desnecessidade, o servidor estável:

- A) será exonerado com direito à indenização.
- B) será exonerado sem direito à indenização.
- C) ficará em disponibilidade com remuneração proporcional ao tempo de serviço.
- D) será aposentado com proventos proporcionais ao tempo de contribuição.

Questão 50

Marque a alternativa correta acerca da gratificação por serviço extraordinário, conforme a Lei municipal nº 2.177, de 07 de dezembro de 2005:

- A) O serviço extraordinário será remunerado com acréscimo de 50% (cinquenta por cento) em relação à hora normal de trabalho e de 100% (cem por cento) quando executado aos domingos e feriados, exceto nos casos em que a escala de trabalho seja

exigência do cargo que o servidor ocupa ou em que haja legislação específica.

B) Somente será permitido serviço extraordinário para atender a situações excepcionais e temporárias, respeitado o limite máximo de 01 (uma) hora diária.

C) A prestação de serviço extraordinário prescinde de autorização prévia da chefia imediata.

D) É permitido conceder gratificação por serviço extraordinário com objetivo de remunerar outros serviços ou encargos.

INP 09