

NÍVEL FUNDAMENTAL COMPLETO

CARGO 01: AUXILIAR MUNICIPAL

ÁREA DE CONHECIMENTO: CONDUÇÃO DE VEÍCULOS (MOTORISTA)



ICETAP

INSTRUÇÕES ESPECIAIS

- 01** Você está recebendo o seu Caderno de Questões, contendo 50 (cinquenta) questões objetivas de múltipla escolha, numeradas de 01 a 50, em ordem sequencial. Confira a sequência numérica de seu Caderno de Questões antes de iniciar a resolução, assim como o número de páginas, comunicando, imediatamente, ao Fiscal de Sala, em caso de repetição ou ausência de questão ou página.
- 02** Você deve conferir, na capa do Caderno de Questões e no rodapé das páginas internas, o nível e o cargo a que o Caderno de Questões se refere. Caso você tenha recebido um Caderno de Questões que não corresponda ao mesmo nível e cargo descritos no seu Cartão Resposta, comunique imediatamente ao Fiscal de Sala e exija o Caderno de Questões correto.
- 03** As respostas das questões objetivas de múltipla escolha do Caderno de Questões deverão ser transcritas para o Cartão Resposta com caneta esferográfica de tinta azul ou preta fabricada em material transparente.
- 04** Para cada questão da Prova Objetiva de Múltipla Escolha existirão 04 (quatro) alternativas de resposta (A, B, C e D), das quais apenas uma será correta, de acordo com o comando da questão. A marcação de mais de uma no Cartão Resposta anula, automaticamente, a resposta da questão.
- 05** O tempo máximo disponível para realização da prova é de 3h30 (três horas e trinta minutos), já incluído o tempo destinado à identificação e ao preenchimento do Cartão Resposta.
- 06** Somente depois de decorridos 120 minutos do início da prova, o candidato poderá entregar o seu Caderno de Questões e o seu Cartão Resposta, e retirar-se da sala de prova.
- 07** Os 3 (três) últimos candidatos só poderão sair da sala de prova juntos.
- 08** Será permitido ao candidato levar consigo o Caderno de Questões e o Gabarito desde que nos últimos 30 (trinta) minutos antes do término da prova.



ATENÇÃO

Escreva no espaço apropriado do **Cartão Resposta**, com a sua caligrafia usual, a seguinte “frase mestra” de Erich Fromm:

“A criatividade requer a coragem de se abrir mão de certezas.”

A transcrição da “frase mestra” é obrigatória e servirá para identificar o Cartão Resposta do candidato, bem como possibilitar o Exame Pericial Grafotécnico, quando for o caso. A falta da transcrição poderá ocasionar a eliminação do candidato no presente concurso público.

PREFEITURA MUNICIPAL
DE ANANINDEUA/PA

CONCURSO PÚBLICO Nº 003/2019



Leia o texto e responda o que se pede no comando das questões.

Se eu fosse um homem branco, hétero, magro, europeu, católico.

Às vezes - muitas vezes - me flagro pensando que a vida seria mais fácil se eu tivesse nascido homem.

Não que eu ache que a vida de um homem seja fácil. Mas, se eu fosse homem, eu sentiria, simplesmente, que devo menos ao mundo.

Haveria menos fiscalização sobre meu corpo, sobre minha vida afetiva, sobre minha roupa, sobre meus planos. Haveria sim, mas haveria menos.

E eu poderia andar à noite com menos medo, poderia ser avaliada no trabalho somente pela minha competência, poderia me sentir um pouco mais dona de mim mesma.

Mas, para a vida ser mais fácil, não bastaria só ser homem. Eu teria que ser um homem hétero.

Porque se eu fosse um homem que amasse outro homem, talvez o medo de andar na rua à noite persistisse. E o medo de não ser aceito numa entrevista de trabalho também.

E se eu fosse um homem que amasse outro homem, talvez eu tivesse que continuar fingindo, tantas vezes, ser o que não sou, por saber que o que sou não é o que acham que eu deveria ser.

Talvez a vida fosse mais fácil se eu fosse um homem hétero. Mas ainda assim não bastaria.

Eu precisaria ser magro. Porque se eu fosse um homem obeso, a vida não seria exatamente tranquila.

Eu continuaria sendo julgado pelo meu corpo, como sou como mulher. Fiscalizariam meu prato. Condenariam meu comportamento, certos de que minha condição física, além de condenável, era uma simples opção.

Homem. Heterossexual. Magro. Sim. A vida já estaria mais fácil. Mas não bastaria.

De que adiantaria tudo isso, se, ao chegar nos EUA, eu fosse latino-americano? Ou, ao chegar na Europa, eu fosse africano? Os olhares dos policiais na imigração "pode ser traficante", "vai tentar ficar de forma ilegal", "deve ter vindo trabalhar sem autorização". Seria como o olhar de "será que ela vem para se prostituir?"

Não. Não funciona.

A vida seria mais fácil se eu fosse um homem, heterossexual, magro, europeu. Mas não de qualquer parte da Europa. A Alemanha não me abraçaria se eu fosse romeno. A Inglaterra não me desejaria se eu fosse bósnio. A França não me admiraria se eu fosse português.

Pois bem. Homem, hétero, magro e um "bom" europeu. Mas não bastaria.

De que me adiantaria tudo isso, ainda que nascido na França, mas tendo pais negros, pele negra, origens negras? Me aceitariam em qualquer emprego? Me olhariam tranquilamente enquanto circulo no comércio? Me indicariam ao Oscar? Não, minha vida não seria fácil.

Seria preciso ser homem. Ser hétero. Ser magro. Ser um "bom" europeu. Ser branco. Talvez assim a vida caminhasse melhor.

Mas não se eu usasse um turbante. Ou um kipá. Nem se eu carregasse minha estrela de Davi no pescoço. Era preciso, além de tudo, ser cristão e de preferência católico.

Homem. Heterossexual. Magro. Europeu. Branco. Católico.

Talvez. Talvez assim a minha vida começasse do zero, e não do negativo. Talvez assim, eu pudesse lidar só com os problemas da vida - doença, falta de grana, desamores,

desemprego, mortes na família. Talvez assim, eu tivesse só as preocupações que a gente deveria ter na vida, sem esses "pequenos" bônus de medo e de constrangimento.

Eu não nasci homem. Nasci mulher, latino-americana. Poderia ter nascido negra. Poderia me descobrir homossexual. Posso me tornar obesa. Nenhuma vida é fácil. Sobretudo, nenhuma vida é fácil num mundo que criou tantas regras de merda.

É privilégio ser homem? Ser hétero? Ser magro? Ser europeu? Ser branco? Ser cristão? Alguém é culpado por ser ou não ser? Alguém é vilão ou mocinho por ser o que é?

Claro que não. Mas é preciso - talvez indispensável - não perder de vista a complexidade da vida daqueles que nos cercam. É preciso parar de insistir em olhar tão insistentemente somente para os nossos problemas e ter um mínimo de empatia. E perceber que quanto menos entraves há na nossa vida, maior é o nosso dever moral de fazer algo para derrubar os obstáculos que impedem os outros de viver normalmente. É preciso em alguma medida, fazer o mínimo que nos cabe para ajudar a desconstruir esse lixo de estrutura na qual estamos inseridos.

Fonte: MANUS, Ruth. Um dia ainda vamos rir de tudo isto.

Questão 01

Para a desconstrução do lixo estrutural no qual se está inserido, o texto sugere:

- A) a luta agressiva por direitos das minorias.
- B) o desenvolvimento da empatia.
- C) deixar de se preocupar com a vida dos outros.
- D) a criação e a aplicação de leis protetivas.

Questão 02

O fragmento textual que atesta a presença de gordofobia no cotidiano é:

- A) "Mas ainda assim não bastaria."
- B) "Fiscalizariam meu prato."
- C) "Alguém é culpado por ser ou não ser?"
- D) "(...) ajudar a desconstruir esse lixo de estrutura (...)".

Questão 03

"Se eu fosse um homem, branco (...)", a conjugação verbal falhou, seguindo a estrutura frasal em:

- A) Se tu fosse.
- B) Se ele fosse.
- C) Se nós fôssemos.
- D) Se vós fôsseis.

Questão 04

O texto de Ruth Manus não denuncia desigualdade no aspecto:

- A) gênero.
- B) cor.
- C) sexualidade.
- D) econômico.

Questão 05

Em "(...) sem esses 'pequenos' bônus de medo (...)", o emprego de aspas no adjetivo marca:

- A) a insignificância dos problemas.
- B) o desprezo pela opinião do outro.
- C) a presença da ironia.
- D) o uso de linguagem denotativa.

Questão 06

Entre os grupos que sofrem avaliação negativa não consta o de:

- A) mulheres.
- B) judeus.
- C) africanos.
- D) artistas europeus.

Questão 07

Em: "Se eu fosse um homem (...)", o termo "Se" classifica-se como:

- A) pronome pessoal caso reto.
- B) conjunção condicional.
- C) conjunção integrante.
- D) pronome pessoal caso oblíquo.

Questão 08

Não está correta a mudança do gênero dos nomes em:

- A) homem branco - mulher branca.
- B) homem hétero - mulher hétera.
- C) europeu feliz - europeia feliz.
- D) católico magro - católica magra.

Questão 09

Assinale a alternativa em que são listadas palavras representativas metonimicamente do judaísmo:

- A) Estrela de Davi - quipá.
- B) latino-americano - católico.
- C) turbante - cristão.
- D) Oscar - Alemanha.

Questão 10

O travessão em: "(...) - doença, falta de grana, desamores, desemprego, mortes na família." é um tipo de aposto:

- A) explicativo.
- B) resumitivo.
- C) especificativo.
- D) enumerativo.

Questão 11

Assinale a alternativa em que há erro na separação silábica:

- A) he-te-ro-sse-xu-al.
- B) qual-quer.
- C) nas-ci-do.
- D) des-cons-tru-ir.

Questão 12

Há acerto na análise da estrutura de: "Seria preciso ser homem." em:

- A) "ser homem" é um sujeito oracional.
- B) "Seria preciso" é uma oração subordinada.
- C) A primeira oração é absoluta.
- D) O período é composto por coordenação.

Questão 13

Não há antonímia nos pares em:

- A) hétero - homo.
- B) obeso - magro.
- C) flago - manifesto patente.
- D) empatia - aversão.

Questão 14

Não exemplifica um substantivo paroxítona a alternativa:

- A) estrela.
- B) fácil.
- C) Inglaterra.
- D) bônus.

Questão 15

Assinale a alternativa em que a letra maiúscula não foi usada em topônimo:

- A) Europa.
- B) Inglaterra.
- C) Alemanha.
- D) Oscar.

Questão 16

Há incorreta relação substantivo e coletivo em:

- A) traficante - bando.
- B) roupa - enxoval.
- C) estrela - arquipélago.
- D) homens - homenzarrada.

Questão 17

A autora poderia ter substituído, no texto, "regras de merda" pelo coletivo:

- A) concílio.
- B) chorriho.
- C) claque.
- D) camarilha.

Questão 18

O adjetivo pátrio não se relaciona corretamente em:

- A) Europa - europeu.
- B) EUA - ianque.
- C) Inglaterra - iemenita.
- D) Nigéria - nigeriano.

Questão 19

No excerto, "(...) algo para derrubar os obstáculos que impedem os outros (...)", a concordância do verbo impedir faz-se com:

- A) outros.
- B) algo.
- C) obstáculos.
- D) derrubar.

Questão 20

Em: "Fiscalizariam meu prato." e "Condenariam meu comportamento (...)", há exemplos de:

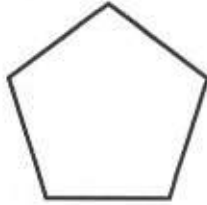
- A) sujeitos inexistentes.
- B) sujeitos desinenciais.
- C) sujeitos simples elípticos.
- D) sujeitos indeterminados.



MATEMÁTICA

Questão 21

Um pentágono regular tem perímetro 37,5cm. Qual a medida do seu lado?



- A) 7,35 cm
- B) 7,2 cm
- C) 7,5cm
- D) 6,3 cm

Questão 22

Fatorando em fatores primos o número 1620, encontrei $2^x \cdot 3^y \cdot 5^z$. Qual o valor $\sqrt{(x \cdot y) + z}$?

- A) ± 2
- B) ± 3
- C) ± 4
- D) $\pm 2\sqrt{2}$

Leia o texto a seguir para responder as questões 23 e 24

Querendo comprar um aparelho eletrônico cujo preço anunciado é de R\$ 2.420,00, recebi as seguintes propostas:
 1ª: 20% de desconto para pagamento à vista;
 2ª: 10% de desconto para pagamento em 4 parcelas iguais.

Questão 23

Pagando à vista, o valor é de:

- A) R\$ 1.936,00
- B) R\$ 1.938,00
- C) R\$ 1.940,00
- D) R\$ 1.836,00

Questão 24

O valor da parcela se eu aceitar a 2ª proposta é de:

- A) R\$ 580,40
- B) R\$ 498,50
- C) R\$ 544,50
- D) R\$ 560,00

Questão 25

Duas pessoas receberam gratificação por horas extras de trabalho. Uma delas recebeu R\$ 450,00 a mais que a outra. Calcule o valor das gratificações, sabendo que elas estão na razão $\frac{9}{4}$ e assinale a alternativa correta.

- A) O valor da maior gratificação foi de R\$ 750,00
- B) O valor da menor gratificação foi de R\$ 320,00
- C) O valor da menor gratificação foi de R\$ 310,00
- D) O valor da maior gratificação foi de R\$ 810,00

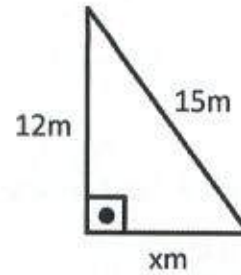
Questão 26

A sequência numérica (6, X, Y, 12) é diretamente proporcional a sequência (3, 4, 5, 6). Qual o valor de X+Y?

- A) 8
- B) 18
- C) 16
- D) 20

Análise o triângulo e responda as questões 27, 28 e 29.

Um canteiro tem a forma do triângulo seguinte.



Questão 27

Quanto mede "x"?

- A) 10m
- B) 6m
- C) 8,5m
- D) 9m

Questão 28

Qual o perímetro em metros do canteiro?

- A) 36m
- B) 37m
- C) 40m
- D) 35m

Questão 29

Qual a área do canteiro?

- A) $60m^2$
- B) $36m^2$
- C) $54m^2$
- D) $52m^2$

Questão 30

Uma foto com dimensões 12cm de largura por 20cm de altura será ampliada para ter uma altura de 45cm. Qual será a dimensão da largura?

- A) 20cm
- B) 24cm
- C) 25cm
- D) 27cm

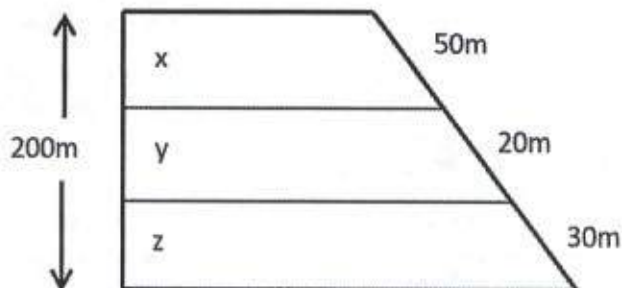
Questão 31

A pagar com 1 ano de antecedência, uma fatura sofreu um abatimento de 13%, resultando um valor líquido de R\$ 4.350,00. Qual o valor inicial dessa fatura?

- A) R\$ 5.000,00
- B) R\$ 5.200,00
- C) R\$ 4.850,00
- D) R\$ 5.250,00

Questão 32

A figura, a seguir, descreve a planta de três terrenos com laterais paralelas. Qual a medida de "Z" em metros?



- A) 40
- B) 35
- C) 20
- D) 60

Questão 33

Em uma tecelagem, 12 máquinas trabalham 20 dias e produzem 20.000 peças de tecido. Quantas máquinas iguais seriam necessárias para produzir 16.000 peças de tecido em 6 dias?

- A) 20
- B) 32
- C) 30
- D) 25

Questão 34

Com quantos litros de água uma piscina com forma de paralelepípedo retângulo de medidas 4m x 3m x 1,5m fica inteiramente cheia? Dado: $1\text{dm}^3 = 1\ell$

- A) 8.500 ℓ
- B) 1.800 ℓ
- C) 18.000 ℓ
- D) 16.000 ℓ

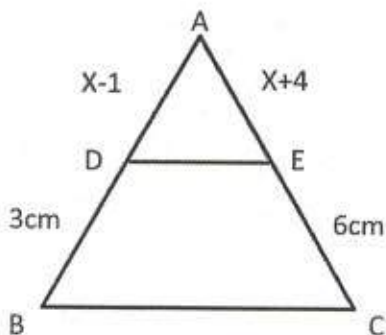
Questão 35

Dados os conjuntos: $A = \{x \in \mathbb{N} \mid 2 \leq x \leq 7\}$ e $B = \{x \in \mathbb{Z} \mid -2 \leq x < 4\}$, então, $A \cap B =$

- A) {1,2,3}
- B) {2,3,4,5}
- C) {2,3}
- D) {-2,-1,0}

Questão 36

No triângulo ABC, sabe-se que $\overline{DE} \parallel \overline{BC}$. Calcule a medida $\overline{AB} + \overline{AC}$ em cm e assinale a alternativa correta:



- A) 24cm
- B) 26cm
- C) 18cm
- D) 30cm

Questão 37

Fui ao banco e saquei no caixa eletrônico R\$ 250,00 em notas de R\$ 5,00 e de R\$ 10,00, totalizando 35 notas. Quantas notas de R\$ 10,00 eu recebi?

- A) 10
- B) 15
- C) 12
- D) 20

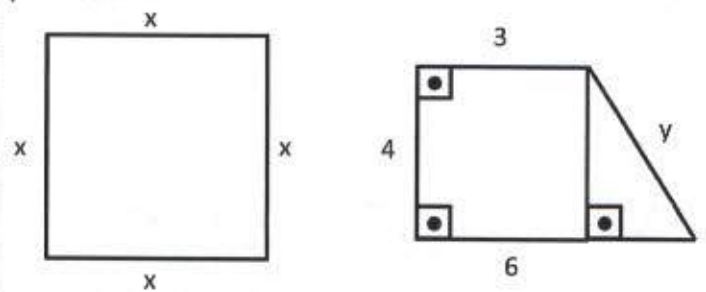
Questão 38

Em um retângulo, a medida do comprimento é 3cm maior que a medida da largura. Sabendo que o perímetro do retângulo mede 30cm, qual a área desse retângulo?

- A) 54cm^2
- B) 48cm^2
- C) 60cm^2
- D) 63cm^2

Leia as informações, analise as figuras seguintes e responda as questões 39 e 40

O quadrado e o trapézio retângulo têm o mesmo valor de perímetro.



Questão 39

Qual o valor de "x"?

- A) 4cm
- B) 5cm
- C) 4,5cm
- D) 6cm

Questão 40

Qual o valor de "y"?

- A) 5cm
- B) 4,2cm
- C) 7cm
- D) 6cm



ATUALIDADES

Todas as reportagens utilizadas nas questões da Prova de Atualidades foram acessadas no dia 19.10.2019.

Questão 41

"Mais de 500 mil pessoas participam nesta sexta-feira (18) de um protesto no centro de (...) contra a condenação de 12 políticos da Catalunha por seu envolvimento no plebiscito separatista de outubro de 2017. Segundo o jornal catalão La Vanguardia, a polícia municipal de (...) estima em pelo menos 525 mil o número de manifestantes. O ato reúne pessoas de diversas cidades da Catalunha, que vive um dia de greve geral por causa da

sentença. Dezenas de voos foram cancelados no aeroporto internacional de El Prat, nos arredores de (...), e o centro da capital catalã foi totalmente bloqueado pelos manifestantes. A Basílica da Sagrada Família, atração turística mais famosa da cidade, suspendeu as visitas por causa da greve." (Fonte: <https://istoe.com.br/protesto-paralisa-barcelona-e-reune-mais-de-500-mil/>). Onde ocorreu essa manifestação?

- A) Arábia Saudita.
- B) Barcelona.
- C) Síria.
- D) Equador.

Questão 42

"_____ continua sendo marca mais valiosa do mundo; Uber e LinkedIn estreiam na lista. Segundo ranking da Interbrand, 100 maiores marcas são avaliadas em US\$ 2,1 trilhões. Facebook deixa 'top 10'. Avaliada em US\$ 234 bilhões, a _____ continua sendo a marca mais valiosa do mundo, segundo o ranking Marcas Globais Mais Valiosas 2019, divulgado nesta quinta-feira (17) pela consultoria Interbrand." (Fonte: <https://g1.globo.com/economia/midia-e-marketing/noticia/2019/10/17/apple-continua-sendo-marca-mais-valiosa-do-mundo-uber-e-linkedin-estreiam-na-lista.ghtml>). Marque a alternativa que complete corretamente a lacuna da reportagem:

- A) Apple.
- B) Amazon.
- C) Google.
- D) Instagram.

Questão 43

O Ministério (...) anunciou ontem o descontingenciamento do orçamento das universidades federais. "Cem por cento de todo o orçamento para o custeio das universidades federais e institutos está sendo descontingenciado neste momento", disse o ministro Abraham Weintraub. Em entrevista coletiva ontem para anunciar o descontingenciamento, Weintraub disse que o orçamento para 2020 é o mesmo deste ano e ressaltou que receitas adicionais poderão ser conseguidas pelo Future-se. O programa incentiva a captação de verba privada pelas universidades federais." (Fonte: <https://istoe.com.br/mec-bloqueio-de-verbas-de-universidades-acabou/>). Qual Ministério refere-se a presente reportagem?

- A) Ministério do Planejamento.
- B) Ministério da Economia.
- C) Ministério da Educação.
- D) Ministério do Orçamento.

Questão 44

"O Diário Oficial da União (DOU) publica lei sancionada nesta quinta-feira, 17, pelo presidente Jair Bolsonaro que pretende facilitar a venda de bens apreendidos em ações de combate ao tráfico ilícito de drogas." (Fonte: <https://www.oliberal.com/brasil/governo-publica-lei-que-facilita-venda-de-bens-apreendidos-do-trafico-de-drogas-1.204356>). Essa lei é resultado da aprovação da Medida Provisória 885/2019. O dinheiro decorrente dessa venda deverá, de imediato, ser utilizado, exceto:

- A) na segurança pública.
- B) nas campanhas de prevenção.
- C) no atendimento a dependentes químicos.
- D) na educação superior.

Questão 45

"Um dia após o primeiro-ministro britânico Boris Johnson retornar a Londres com um acordo de divórcio debaixo do braço, os líderes europeus se reuniram nesta sexta-feira para analisar o futuro do bloco, marcado pela divisão." (Fonte: <https://istoe.com.br/ue-dividida-enfrenta-seu-futuro-nos-brexits/>). Os europeus começam a moldar seu próximo ciclo político, depois de cinco anos de Juncker na liderança do bloco, um período marcado pelo(a), exceto:

- A) pelo divórcio com o Reino Unido.
- B) guerra com a Síria.
- C) pela crise da migração.
- D) pela crise financeira de 2008.



LEGISLAÇÃO

Todas as questões devem ser resolvidas com base na Lei n.º 2.177, de 07 de dezembro de 2005 (Estatuto dos Servidores Públicos do Município de Ananindeua).

Questão 46

Conforme estabelece o § 3º do art. 8º, às pessoas portadoras de deficiência é assegurado o direito de se inscrever em concurso público para provimento de cargos cujas atribuições sejam compatíveis com a deficiência de que são portadoras, sendo a elas reservados, no mínimo:

- A) 5% (cinco por cento) das vagas oferecidas no concurso.
- B) 10% (dez por cento) das vagas oferecidas no concurso.
- C) 15% (quinze por cento) das vagas oferecidas no concurso.
- D) 20% (vinte por cento) das vagas oferecidas no concurso.

Questão 47

Marque a alternativa que complete corretamente as lacunas do texto do artigo 25: "O exercício do cargo _____ exigirá de seu ocupante integral dedicação ao serviço, _____ direito à gratificação pela prestação de serviço extraordinário, podendo ser convocado sempre que houver interesse da Administração."

- A) efetivo; com.
- B) efetivo; sem.
- C) em comissão; sem.
- D) em comissão; com.

Questão 48

Segundo o § 4º do art. 29, após comprovada administrativamente a incapacidade ou inadequação para o serviço público, será o servidor em estágio probatório:

- I- exonerado;
- II- se estável, reconduzido ao cargo anteriormente ocupado, na forma do art. 40 que trata da recondução.

Após a leitura das afirmações, marque a alternativa correta:

- A) A afirmação I é Falsa e a afirmação II é Verdadeira.
- B) A afirmação I é Verdadeira e a afirmação II é Falsa.
- C) A afirmação I é Verdadeira e a afirmação II é Verdadeira.
- D) A afirmação I é Falsa e a afirmação II é Falsa.

Questão 49

O servidor em jornada de oito horas diária terá direito a um intervalo entre uma hora e duas horas para repouso e alimentação, a critério da Administração. Não excedendo a sete horas diárias a jornada de trabalho, o servidor fará jus a um intervalo de:

- A) dez minutos.
- B) trinta minutos.

- C) quinze minutos.
D) vinte minutos.

Questão 50

Complete as lacunas do texto do art. 90-A, previsto na Subseção VIII do Capítulo 3, que trata das vantagens, assim disposto: "A gratificação por _____ é a retribuição pecuniária mensal destinada aos ocupantes dos cargos que, por sua natureza, exijam a prestação do serviço _____."

- A) tempo de serviço; efetivo.
B) tempo integral; com dedicação exclusiva.
C) titulação; efetivo.
D) regime especial de trabalho; com dedicação exclusiva.

